
















Je cherche



2

Colle les étiquettes des objets (à découper page 61) dans la bonne colonne du tableau. Tu peux en dessiner d'autres.

Catégorie 1 : Les objets qui fonctionnent comme 	Catégorie 2 : Les objets qui fonctionnent comme  ou 		
			
			
			


■ Relie chaque catégorie à son titre.


- Catégorie 1 ● ● Les objets électriques
- Catégorie 2 ● ● Les objets mécaniques

Les objets qui fonctionnent sans électricité sont des **objets mécaniques**.



J'ai compris que...

Certains objets fonctionnent **sans électricité** : ce sont des objets .

D'autres fonctionnent à **l'électricité** : ce sont des objets .