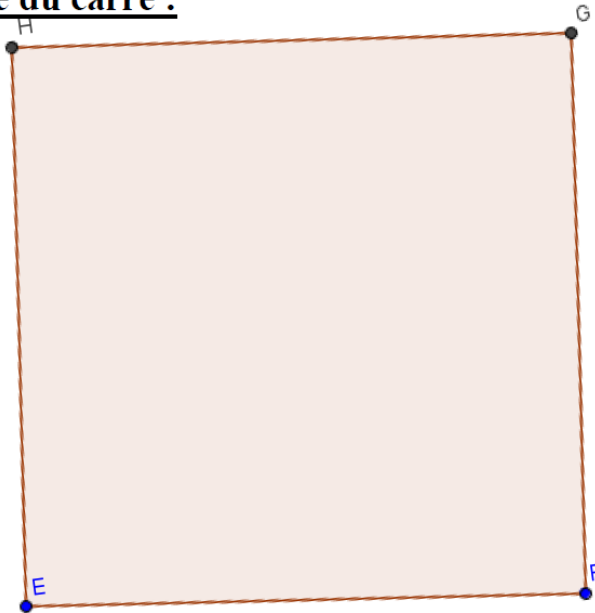




CALCULS D'AIRES★

9

Calcule l'aire du carré :



7 cm

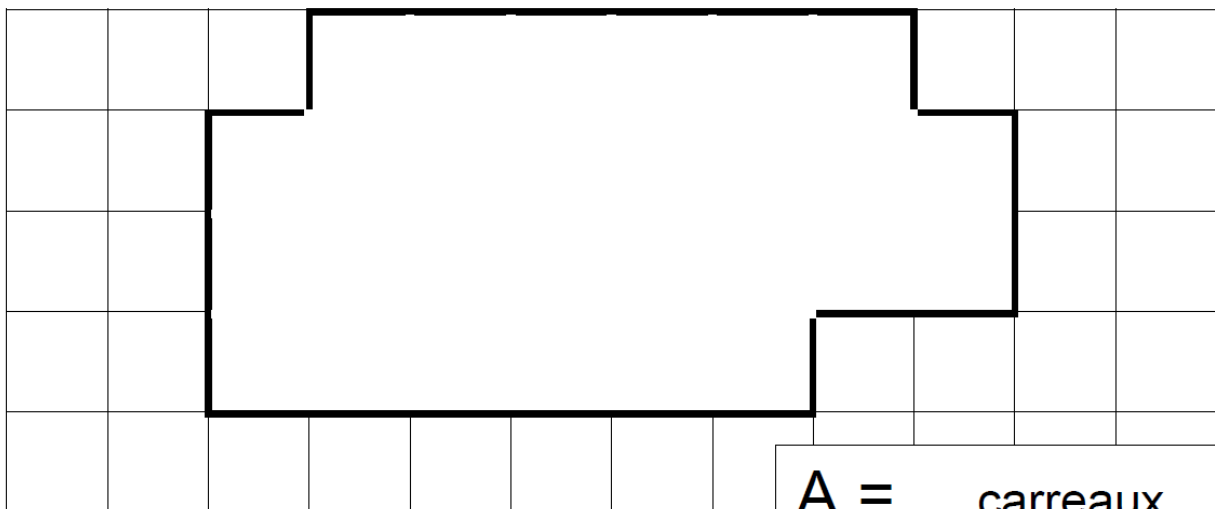
$A = \dots \text{ cm}^2$



CALCULS D'AIRES★

11

Calcule l'aire de la figure :



$A = \dots \text{ carreaux}$



CALCULS D'AIRES★

12

Construis un rectangle dont l'aire mesure 18 carreaux



CALCULS D'AIRES★

13

En sachant que l'aire de la figure 1 fait 40 cm^2 , quelle est l'aire de la figure 2 ?




Figure 1




Figure 2


Aire figure 2 = ... cm^2



CALCULS D'AIRES★

15

Calcule l'aire du rectangle (le trait en pointillé va t'aider à trouver) :



4 cm

8 cm

A = ... cm^2