

Jeudi 19 mars – Mathématiques CM2

Comme en classe, écris et souligne la date chaque jour. N'hésite pas à utiliser tes leçons !

Calcul – dans le cahier de maths

- **Ecris et souligne** Calcul.
- **Colle la feuille ou recopie** les opérations.
- **Complète.**

$3 \times 9 = \dots$	$8 \times \dots = 16$	$30 : 6 = \dots$
$9 \times 5 = \dots$	$5 \times \dots = 35$	$24 : 4 = \dots$
$2 \times 8 = \dots$	$6 \times \dots = 36$	$12 : 6 = \dots$
$4 \times 4 = \dots$	$\dots \times \dots = 32$	$27 : 3 = \dots$
$2 \times 7 = \dots$	$7 \times \dots = 42$	$36 : 6 = \dots$
$8 \times 8 = \dots$	$7 \times \dots = 28$	$64 : 8 = \dots$
$3 \times 5 = \dots$	$6 \times \dots = 30$	$25 : 5 = \dots$
$4 \times 6 = \dots$	$\dots \times \dots = 25$	$80 : 10 = \dots$
$7 \times 7 = \dots$	$\dots \times \dots = 64$	$49 : 7 = \dots$
$5 \times 9 = \dots$	$\dots \times \dots = 81$	$33 : 3 = \dots$

Numération – dans le cahier de maths

- **Ecris et souligne** Numération.
- **Résous** ce problème.



L'année 2009 est comme l'année 2018 une année de « somme 11 » parce qu'on obtient 11 si on additionne chaque chiffre :










$$2+0+0+9 = 11$$

$$2+0+1+8 = 11$$

Quelle sera la prochaine année de somme 11 ?

Logique – dans le cahier de maths


- **Ecris et souligne** Logique.
- **Résous** ce problème.

	+		+		=	75 € 75
	+		+		=	63 € 25
	+		+		=	52 € 75

Avec les informations ci-dessus, trouve le prix de chaque jouet :



= ... €



= ... €



= ... €

Envoie tout, comme d'habitude !