

Prénom : _____





Mercredi 8 avril 2020

Atelier de résolution de problèmes

Fiche à compléter avec un crayon si tu peux imprimer (version PDF) ou avec l'ordinateur (version Word).

Problème 1

Voici les enfants inscrits dans les ateliers du centre de loisirs :

tennis 	musique 	peinture 	foot 
Mylana Kimie Elliot Gabriel	Léo Laurine Chloé Maélyne	Alice Elisa Maé Flore	Matthias Léon Milan Marceau

Complète.

Gabriel fait

Milan fait

Chloé fait

Léo fait

Léon fait

Laurine fait

Complète par OUI ou NON.

Alice est dans le même groupe que Flore.

Kimie est dans le même groupe que Marceau.

Gabriel fait de la musique.

Mylana fait du tennis.

Maé fait du foot.

Problème 2

Maëlyne observe les oiseaux dans le parc. Elle a vu 4 merles, 7 pigeons et 10 moineaux.

Si tu n'as imprimé, tu peux dessiner sur ton cahier de brouillon

Pour dessiner si tu en as besoin (si tu as pu imprimer) :

Maëlyne a observé oiseaux.

Ecris une égalité qui correspond à ce problème