

90 Les moitiés (cas des nombres jusqu'à 20)

Calcul mental  
• Groupes de 2, 5 et 10



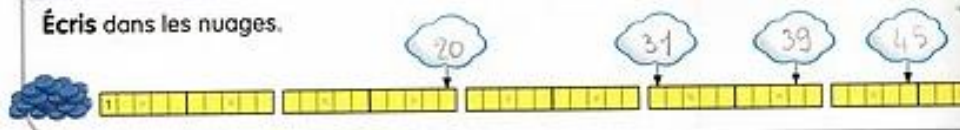
Picbille a partagé 10 jetons entre Louis et Amina. Vérifie.



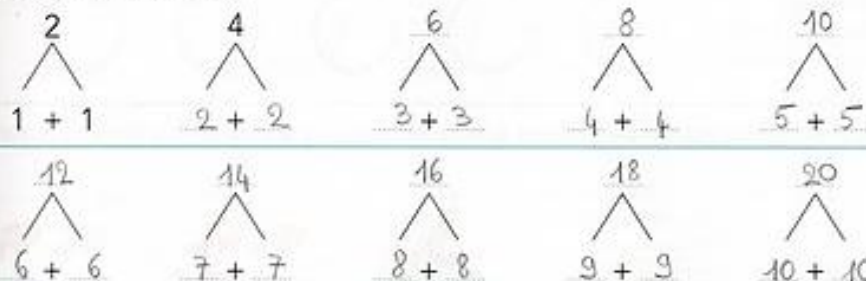
Vérifie le premier partage, écris la valeur des parts. Fais les suivants.

12 jetons	6 jetons	6 jetons
14 jetons	7 jetons	7 jetons
16 jetons	8 jetons	8 jetons
18 jetons	9 jetons	9 jetons
20 jetons	10 jetons	10 jetons

Écris dans les nuages.



Écris la table des moitiés.



Imagine les dizaines et les unités. Si tu n'es pas sûr(e), dessine.

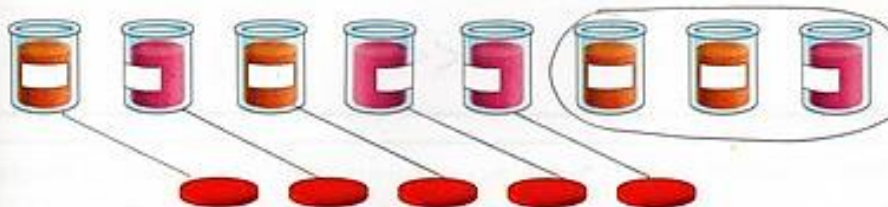
34 + 30 = 64      25 + 10 = 35      13 + 40 = 53  
26 + 20 = 46      19 + 50 = 69      32 + 40 = 72

Imagine les dizaines et les unités. Si tu n'es pas sûr(e), dessine.

Un nouveau groupe de dix ou non ?  
15 + 5 = 20      32 + 7 = 39      52 + 8 = 60  
36 + 9 = 45      43 + 8 = 51      73 + 5 = 78

a. Complète.

Il y a 8 pots mais il n'y a que 5 couvercles.



b. Écris, interprète et calcule la soustraction.  $8 - 5 = 3$

c. Vérifie (relie et entoure) et écris une « phrase solution ».

Il manque 3 couvercles.

