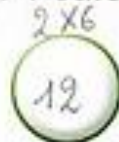


98

Soustractions du type 11 – 3 : calculer mentalement

Calcul mental

- Groupes de 2, 5 et 10
- Un nouveau groupe de dix ou non ? (somme ≤ 69)



La maîtresse utilise des cartons avec des dessins de doigts pour calculer des soustractions.

Exemple : $11 - 3$.

1.



J'ai pris le carton sur lequel on a dessiné 11 doigts. Imaginez les 11 doigts.


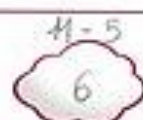
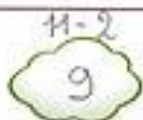
2.



Je cache 3 doigts. Imaginez ce que je fais. $11 - 3$, égale...



Réponds.



Imagine ce que fait la maîtresse. Si tu n'es pas sûr(e), dessine au brouillon.

$12 - 4 = 8$ $11 - 4 = 7$ $11 - 2 = 9$ $15 - 2 = 13$

$14 - 3 = 11$ $14 - 6 = 8$ $15 - 7 = 8$ $16 - 7 = 9$

Calcule en choisissant l'une des méthodes de Picbille. Si tu n'es pas sûr(e), dessine au brouillon.

$38 + 15 =$ _____
= 53

$29 + 26 =$ _____
= 55

Dessine 6 fois 5 points en entourant les groupes de points.

Combien y a-t-il de points en tout ? Écris une égalité et une phrase.