

## 59 Addition d'un nombre à 2 chiffres et d'un nombre à 1 chiffre

### Calcul mental

- Compteur (le résultat est le seul support visuel)
- Vingt + trente (somme  $\leq 70$ )

$$20+30$$

50

$$30+30$$

60

$$40+20$$

60

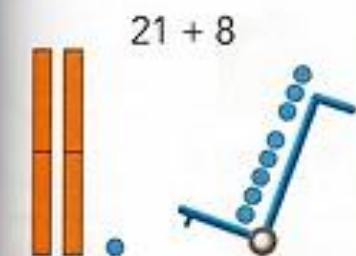
$$10+30$$

40

$$10+20$$

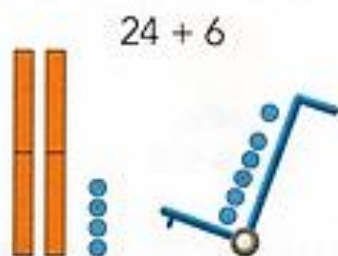
30

Un nouveau groupe de dix ou non ?



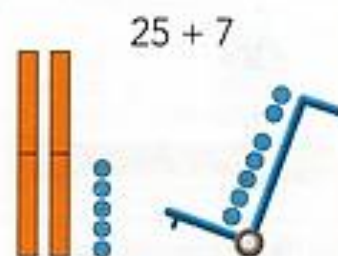
Pas de nouveau groupe de dix.

$$21 + 8 = 29$$



Un nouveau groupe de dix.

$$24 + 6 = 30$$



Un nouveau groupe de dix et...

$$25 + 7 = 32$$

Calcule comme Picbille. (Imagine les groupes de dix et les jetons isolés.)

$$35 + 3 = 38$$

$$26 + 4 = 30$$

$$35 + 6 = 41$$

$$12 + 4 = 16$$

$$15 + 5 = 20$$

$$17 + 7 = 24$$

$$41 + 8 = 49$$

$$12 + 8 = 20$$

$$28 + 5 = 33$$

Imagine les dizaines et les unités. Si tu n'es pas sûr(e), dessine.



Un nouveau groupe de dix ou non ?

$$45 + 6 = 51$$

$$31 + 6 = 37$$

$$63 + 7 = 70$$

$$25 + 4 = 29$$

$$53 + 9 = 62$$

$$31 + 4 = 35$$

Imagine...

$$24 + 30 = 54$$

$$19 + 20 = 39$$

$$68 + 10 = 78$$

$$17 + 50 = 67$$

Dessine avec le moins de billets et de pièces possible.

