

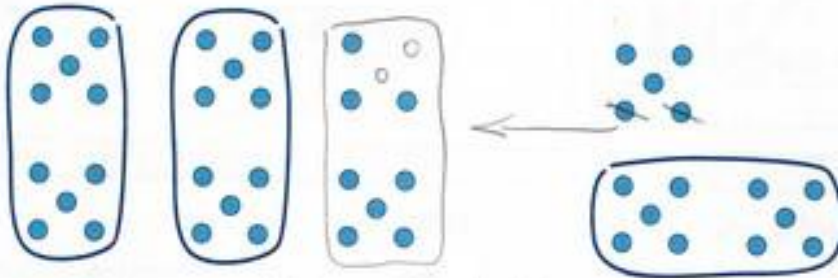
Dans la cour, il y a 28 enfants. 15 autres enfants vont entrer dans la cour.  
**Combien** y aura-t-il d'enfants dans la cour ?



Dédé calcule  $28 + 15$ .

Il imagine que ses points sont des enfants.

**Calcule.**



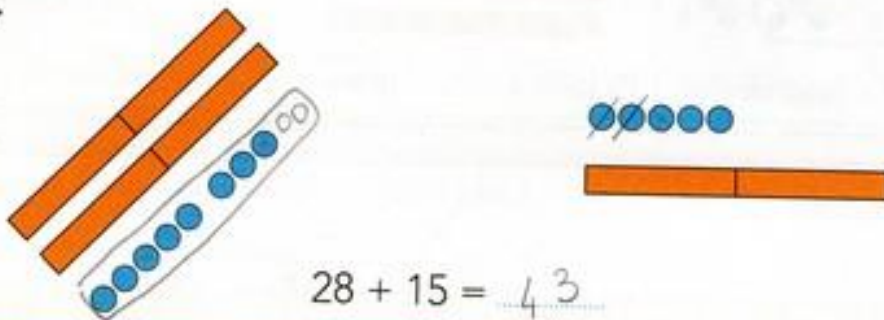
$$28 + 15 = 43$$



Picbille calcule  $28 + 15$ .

Il imagine que ses jetons sont des enfants.

**Calcule.**



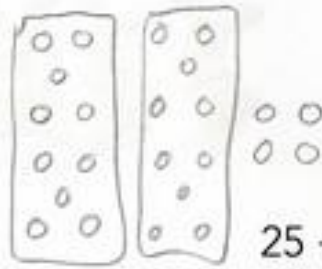
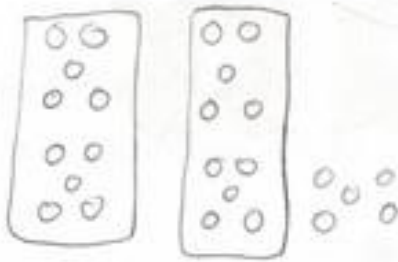
$$28 + 15 = 43$$



Calcule en dessinant comme Dédé.



$$25 + 24$$




$$25 + 24 = 49$$

Calcule en dessinant comme Picbille.



$$18 + 38$$



$$18 + 38 = 56$$

Complète.

- Dans un bouquet, il y a 18 fleurs. On ajoute 38 fleurs.  
Maintenant, il y a ..... 56 fleurs en tout.
- Madame Ledoux a 18 euros dans son portemonnaie. Elle y met 38 autres euros.  
Maintenant, madame Ledoux a ..... 56 euros dans son portemonnaie.

Invente d'autres problèmes d'addition avec les nombres 18 et 38.

B

Écris la table  
des moitiés.



$$1 + 1$$



$$2 + 2$$



$$3 + 3$$



$$4 + 4$$



$$5 + 5$$

C